

ÉVALUATION EXTERNE NON CERTIFICATIVE 2015

FORMATION HISTORIQUE ET GÉOGRAPHIQUE

3^e ANNÉE DE L'ENSEIGNEMENT SECONDAIRE



VILLE
CAMPAGNE RUE
PRAIRIE PAYSAGE DESSIN
FORET RIVIÈRE HISTOIRE
GEOGRAPHIE CALENDRIER
NATURE HOMME AUTREFOIS
MONUMENT ANNÉE SIECLE HORAIRE
EST OUEST POINT CARDINAL RIVIÈRE
COMMUNE MER MONTAGNE EUROPE CHÂTEAUX-FORTS MACHINE À VAPEUR VILLES CAMPAGNES ARCHEOLOGIE CONQUÊTE SPA
MANUSCRITS TÉMOIGNAGES URBANISATION HABITAT RÉGIONS FLEUVES GARE FERROVIAIRE CHEMIN DE FER
FRONTIÈRES QUARTIER POPULATION DÉMOGRAPHIE EXPLOITATIONS AGRICOLES ROSE DES VENTS DISTANCE SUPERFICIE
CAMPAGNE RUE PRAIRIE PAYSAGE PHOTOGRAPHIE DESSIN FORET RIVIÈRE HISTOIRE GEOGRAPHIE CALENDRIER DATE ANNÉE GRA
TOUR SEMAINE NATURE HOMME AUTREFOIS
PAYSAGE RURAL URBAIN VUE AERIENNE CARTE PLAN NORD SUD EST OUEST POINT CARDINAL RIVIÈRE C
NATURE HOMME AUTREFOIS
D'EAU VILLE PROVINCE REGION DISTANCE PAYS CONTINENT LIEU GRAPHIQUE COMMUNE MER MONTAGNE EUROPE CHÂTEAUX-
ANNÉE SIECLE
EST OUEST
RÉGIONS FLEUVES GARE FERROVIAIRE CHEMIN DE FER AUTOROUTE RESEAU ROUTIER TRANSPORTS FRONTIÈRES QUARTIER POPUL
COMMUNE MER MONTAGNE EUROPE CHÂTEAUX-FORTS MACHINE À VAPEUR VILLES CAMPAGNES ARCHEOL
DÉMOGRAPHIE EXPLOITATIONS AGRICOLES ROSE DES VENTS DISTANCE SUPERFICIE VILLE CAMPAGNE RUE PRAIRIE PAYSAGE PHOTOGR
CONQUÊTE
HABITAT
RÉGIONS FLEUVES AUTOROUTE

NOM :

PRÉNOM :

CLASSE :

N° D'ORDRE :

ÉCOLE :

PARTIE 1

FORMATION GÉOGRAPHIQUE

UTILISE LES DOCUMENTS 1 ET 2

- À quelles villes visibles sur la carte peux-tu associer les aéroports belges ?
Les aéroports d'Anvers et de Liège sont déjà indiqués.

▪ Anvers

▪ Liège

- _____ 1
- _____ 2
- _____ 3

- Cite l'aéroport le plus proche de Tournai en Région wallonne.

_____ 4

- Coche la direction cardinale.

- Anvers se situe au sud-est au sud-ouest au nord-est au nord-ouest de Tournai. 5

- Dans quelle direction cardinale se situe Paris par rapport à Tournai ?

_____ 6

■ Coche la distance entre les villes de Tournai et Ostende.

- Environ 60 km
- Environ 75 km
- Environ 90 km
- Environ 105 km

7

■ On constate une différence de densité des voies de communication entre le nord et le sud du pays.

Écris le nom des deux cours d'eau qui marquent cette limite.

- _____
- _____

8

9

■ Donne un titre au document 2.

10

■ Il existe des liens entre la densité de population et les informations du document 1. Décris un de ces liens en une phrase.

11

■ Cite le type d'espace qui correspond aux zones de forte densité de population.

12

■ Indique la densité de population le long de la frontière sud-est de la Belgique.

13

■ Caractérise la densité de population le long de la frontière sud-est de la Belgique.

14

■ Écris le nom de la province où est située la zone entourée en bleu sur le document 2.

15

■ Sur la base des documents 1 et 2, donne trois indications qui permettent de communiquer la situation géographique de la zone entourée en bleu à quelqu'un qui n'aurait pas de carte.

■ _____

16

■ _____

17

■ _____

18

UTILISE LES DOCUMENTS 3, 4 ET 5

- Écris le nom du cours d'eau qui apparaît sur le document 3 ?


 19

- De quel endroit la photographie a-t-elle été prise ?

Coche la réponse.

- A
 B
 C
 D

 20

- Sur quelle rive du cours d'eau se situe l'usine repérée sur le document 3 par  ?
(Aide-toi du document 5).

 21

- Coche la fonction dominante à l'avant-plan sur la photographie.

- Fonction de production agricole
 Fonction de production industrielle
 Fonction administrative
 Fonction résidentielle

 22

- Coche la fonction dominante au second plan sur la photographie.

- Fonction de production agricole
 Fonction de production industrielle
 Fonction administrative
 Fonction résidentielle

 23

■ Coche le type d'espace correspondant au document 3.

Urbain

Industriel

Mixte : urbain, industriel

Mixte : rural, industriel

24

SITUATION

3

UTILISE LES DOCUMENTS 6, 7 ET 8

■ Examine les photographies 6 et 7. Donne un titre à la photographie 7.

25

■ Cite une contrainte de la localisation de l'habitat le long de l'Ourthe à Hotton.

26

■ Le document 8a montre un habitat plus récent, situé à l'endroit « X » sur la vue aérienne. Comment appelle-t-on ce type de quartier ?

27

■ Cite un atout de la localisation de l'habitat récent à cet endroit en te basant sur les informations des documents 8a et 8b.

28

■ Coche l'angle de vue du document 8a.

Vue horizontale

Vue oblique

Vue verticale

29

■ Examine les documents 8a et 8b et situe les différents éléments à l'endroit qui convient en complétant les phrases ci-dessous. Plusieurs espaces conviennent parfois, écris-en un seul.

▪ La forêt se situe dans l'espace n° _____

30

▪ Les cultures se situent dans l'espace n° _____

31

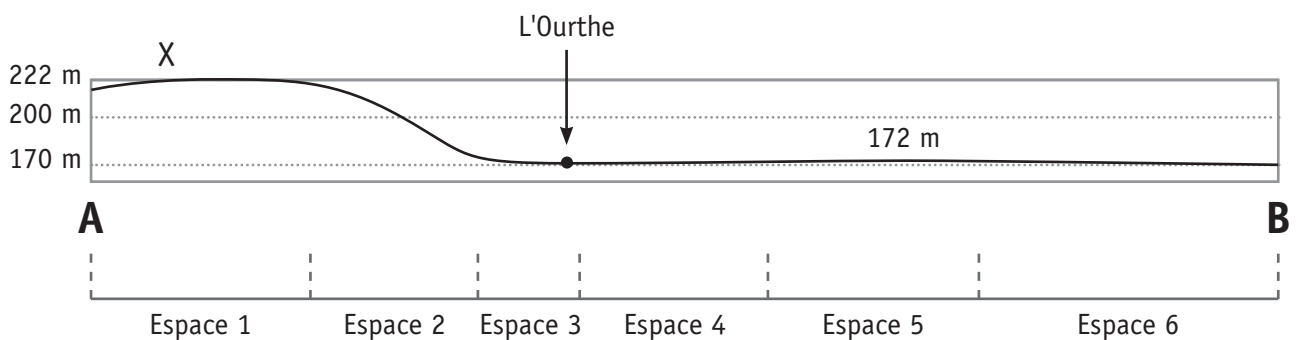
▪ La zone de loisirs (camping) se situe dans l'espace n° _____

32

▪ La zone d'habitation se situe dans l'espace n° _____

33

Profil du relief A-B



UTILISE LES DOCUMENTS 9, 10 ET 11

- Cite le type de relief visible à l'arrière-plan du document 9.

34

- Cite deux atouts naturels, favorables à l'installation de l'Homme, du milieu visible sur le document 9.

■ _____

35

■ _____

36

- D'après les informations fournies dans le document 10, cite une contrainte à l'installation de l'Homme.

37

- Sur le planisphère (document 11), à quel chiffre correspond Clyde River ?
Coche.

1

2

3

4

38

- Clyde River ne peut pas correspondre au point B.
Cite un facteur explicatif.

39

■ Coche la zone climatique qui correspond à Clyde River.

Intertropicale

Tempérée

Polaire

40

■ Cite le mois où la température est la plus basse à Clyde River.

41

■ Cite le mois où la température est la plus élevée à Clyde River.

42

■ Que signifie « Amplitude thermique » ? Coche la définition qui convient.

La moyenne des températures mensuelles minimales.

La moyenne des températures mensuelles maximales.

La différence entre les températures moyennes et les précipitations moyennes.

La différence entre la température moyenne du mois le plus chaud et celle du mois le plus froid.

43

■ Cite la saison qui correspond au mois de juillet, à partir des données du graphique.

Justifie ta réponse.

44

PARTIE 2

FORMATION HISTORIQUE

UTILISE LES DOCUMENTS 12, 13, 14 ET 15

Problématique :

Que nous apprennent les traces du passé découvertes en Europe occidentale sur le mode d'alimentation l'Homme au Néolithique ?

Réponds aux questions ci-dessous pour sélectionner les documents utiles.

■ Cite le thème, le lieu et l'époque de la problématique.

▪ Thème : _____

45

▪ Lieu : _____

46

▪ Époque : _____

47

■ Identifie la nature des traces du passé 12 et 13.

▪ Document 12 : _____

48

▪ Document 13 : _____

49

■ Le document 12 est pertinent. Justifie en te basant sur trois informations le concernant.

Le document 12 est pertinent car :

▪ _____

50

▪ _____

51

▪ _____

52

- Explique pourquoi on ne peut pas sélectionner le document 14.

53

- Le document 15 n'est pas pertinent. Justifie par une information concernant le document.

54

SITUATION **6**

UTILISE LES DOCUMENTS 16, 17, 18, 19 ET 20

Problématique :

Des loisirs pratiqués dans les provinces romaines aux I^{er}, II^e et III^e siècles illustrent-ils le mode de vie de Rome ?

Tu disposes d'un extrait de la table des matières d'un manuel d'histoire (Document 16).

- Cite la page où tu trouveras les informations qui permettront de répondre à la question de recherche.

Page n° _____

55

- Cite la période historique dont il est question aux pages 84 à 89.

56

- Voici les définitions du terme « amphithéâtre ». Souligne l'indice qui te permet de choisir la définition en lien avec la problématique.

AMPHITHÉÂTRE [ãfiteatr] **nom masculin**

ÉTYM. 1213 ◇ latin d'origine grecque *amphitheatrum*

1.Hist. rom. Vaste édifice circulaire à gradins étagés, occupé au centre par une arène, destiné d'abord et essentiellement aux combats de gladiateurs (plus tard, à divers spectacles, même à des naumachies). *L'amphithéâtre Flavien* : le Colisée.

▫ **Par compar.** *S'élever en amphithéâtre, former un amphithéâtre* : s'étagier sur une pente.

◆(1927) **Géol.** *Amphithéâtre morainique* : suite de moraines terminales disposées en arc de cercle autour de l'extrémité d'une langue glaciaire.

2.(1511) Étage supérieur d'un théâtre, où les spectateurs sont placés sur des gradins superposés. → **poulailler**.

3.(1751) Local garni de gradins, réservé aux cours et travaux pratiques d'anatomie et de chirurgie ; par ext. (XIX^e) Salle similaire où les professeurs d'université font les cours. → région. **auditoire, aula**.

▫ **Abrév. fam.** (1829) AMPHI. *Le grand amphi*.

◆ Ensemble des étudiants d'un amphithéâtre.

▫ Cours donné dans un amphithéâtre. *Suivre un amphi. Des amphis*.

- Associe chacun des documents 17, 18 et 19 à la seule définition qui convient. Une de ces définitions ne sera donc pas associée à un numéro.

58

- **THÉÂTRE**

Construction généralement en demi-cercle destinée à la représentation de spectacles dramatiques.

59

60

Document n° _____

- **TAVERNE**

Établissement installé dans les rues étroites de Rome où les passants pouvaient notamment consommer du vin et se restaurer.

Document n° _____

- **THERMES**

Établissement de bains publics où les Romains venaient se détendre, se reposer, lire, pratiquer des activités sportives.

Document n° _____

- **CIRQUE**

Lieu où se donnaient les jeux publics antiques (course de chars, ...).

Document n° _____

- À l'aide de la photo aérienne d'Arles en couleur de ton portefeuille de documents (document 20), entoure de façon bien visible sur l'image ci-dessous les deux éléments qui prouvent qu'Arles a appartenu à l'Empire Romain.



61

62

SITUATION

1

UTILISE LE DOCUMENT 21

Problématique :

Comment se soigne-t-on en Orient et en Occident au XII^e siècle ?

- Écris le nom de la période conventionnelle de l'Histoire visée dans la problématique.

63

■ À partir du document 21, recopie un extrait de phrase ou un extrait du texte qui exprime un fait et un autre extrait qui indique une opinion.

▪ Un fait : _____

64

▪ Une opinion : _____

65

■ À l'aide des informations du document 21, complète le tableau.

LA PATIENTE	
Médecin formé à la médecine orientale	Médecin formé à la médecine occidentale
Diagnostic : _____	Diagnostic : _____
Soin : _____	Soin : _____
	Résultat : _____

66

67

68

69

70

■ Conclue en cochant la proposition correcte.

Au XII^e siècle, la médecine occidentale repose essentiellement sur des bases scientifiques.

71

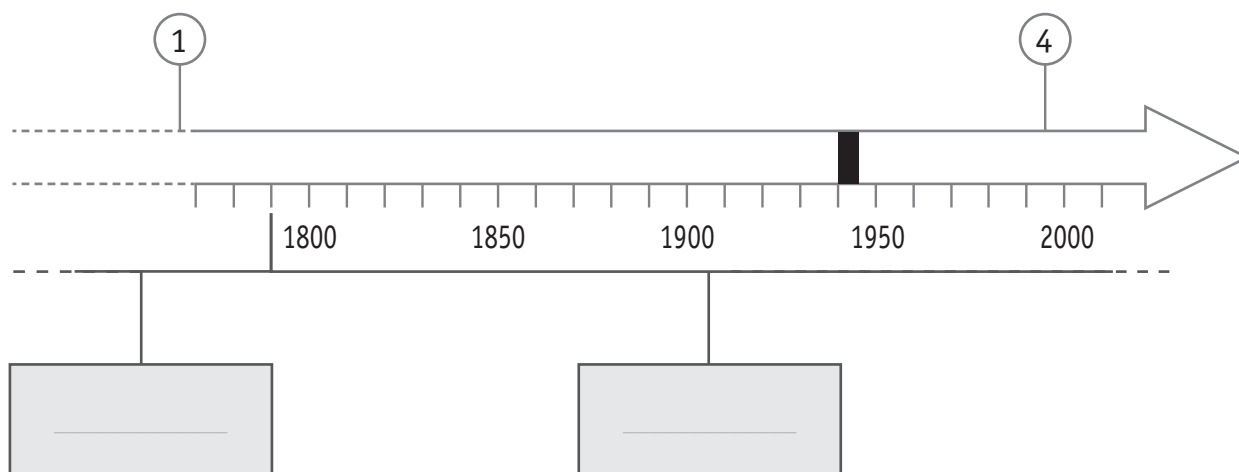
Au XII^e siècle, la médecine orientale repose essentiellement sur des bases scientifiques.

Au XII^e siècle, les médecines occidentale et orientale ne reposent jamais sur aucune base scientifique.

Au XII^e siècle, la médecine occidentale a largement influencé la médecine orientale.

UTILISE LE DOCUMENT 22

Complète la ligne du temps en suivant les instructions et en t'aidant du document 22.



■ Indique, dans les cadres grisés, le nom des deux périodes historiques conventionnelles représentées. 72

■ Cite le siècle au cours duquel a été inventée la machine à vapeur représentée sur la ligne du temps par (1). 73


La machine à vapeur a été inventée au _____ siècle.

■ Situe précisément par un trait surmonté d'un (2) l'indépendance de la Belgique. 74

■ En 1935, la Belgique électrifie sa première ligne de chemin de fer.

a) Localise par un (3) cette date clé sur ta ligne du temps. 75

b) À quel siècle cette date se rapporte-elle ? _____ 76

- Quel est l'évènement représenté sur la ligne du temps par  qui marque une interruption dans l'électrification des voies ferrées ?

Écris la réponse.

77

- Un évènement, dont il est question dans le texte, a été situé sur la ligne du temps par .

a) Cite la date de cet évènement.

78

b) Nomme l'évènement.

79

c) Cite la raison de cet évènement.

80

- Donne un titre à ta ligne du temps.

81



Fédération Wallonie-Bruxelles / Ministère
Administration générale de l'Enseignement
Service général du Pilotage du Système éducatif
Boulevard du Jardin Botanique, 20-22 – 1000 Bruxelles
www.fw-b.be – 0800 20 000
Impression : Desmet-Laire - contact@desmetlaire.be
Graphisme : MO - olivier.vandevelle@cfwb.be
Septembre 2015

Le Médiateur de la Wallonie et de la Fédération Wallonie-Bruxelles
Rue Lucien Namèche, 54 – 5000 NAMUR
0800 19 199
courrier@mediateurcf.be

Éditeur responsable : Jean-Pierre HUBIN, Administrateur général
La « Fédération Wallonie-Bruxelles » est l'appellation désignant usuellement la « Communauté française »
visée à l'article 2 de la Constitution