


ÉPREUVE EXTERNE COMMUNE

CE1D 2015

SCIENCES

LIVRET 1 | MERCREDI 17 JUIN



V2

Arial 14



... /79

Les historiens ne sont toujours pas d'accord sur les causes de la mort de Napoléon !

Sur la base des documents fournis aux deux pages suivantes :

Rédiger les étapes du raisonnement sur lesquelles se basent les experts de la police pour affirmer que l'arsenic a entraîné la mort de Napoléon.

Citer, dans l'ordre, les deux systèmes (ou appareils) traversés par l'arsenic depuis la bouche jusqu'aux cheveux.

Systeme _____ ➔ Systeme _____

1

Certains historiens pensent que la mort de Napoléon est due à une importante hémorragie, conséquence directe d'un cancer de l'estomac.

D'autres chercheurs formulent une autre hypothèse, confirmée d'ailleurs par les experts de la police : il s'agirait d'un empoisonnement à l'arsenic dû à une main criminelle, à un complot.

2

C'est par la nourriture et l'eau que l'Homme peut être intoxiqué par l'arsenic. Celui-ci a souvent été utilisé comme poison car il est sans goût et sans odeur.

Un empoisonnement à l'arsenic peut être diagnostiqué par dosage dans le sang, dans l'urine, dans les cheveux, dans les ongles ainsi que dans la sueur.

3

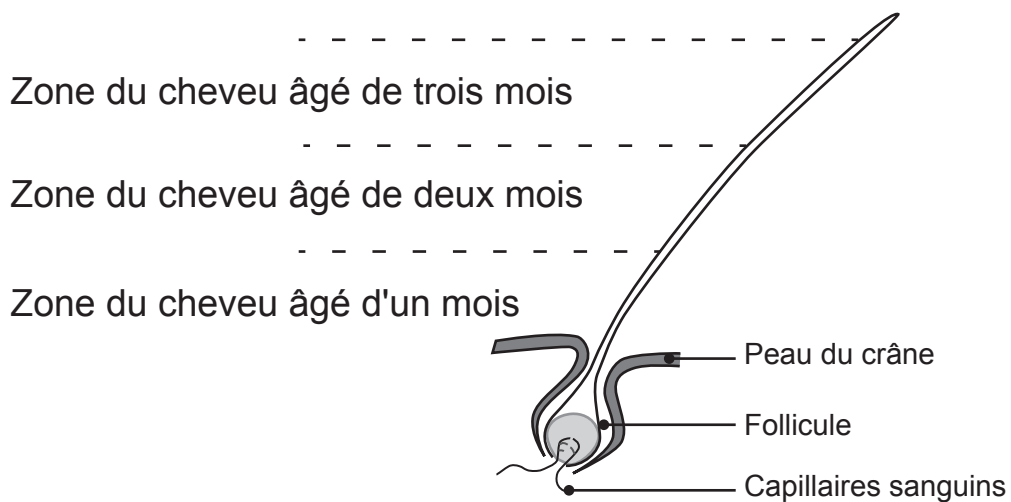
COMMENT POUSSE UN CHEVEU ?

À la base du cheveu se trouve une partie appelée follicule. Cette partie a pour rôle de fabriquer le cheveu et ainsi de le faire pousser. Les zones du cheveu les plus éloignées du crâne sont donc les plus vieilles.

En moyenne, un cheveu grandit de 1,5 cm par mois.

Comme le reste de l'organisme, les cheveux ont besoin d'éléments nutritifs.

STRUCTURE SIMPLIFIÉE D'UN CHEVEU DE TROIS MOIS

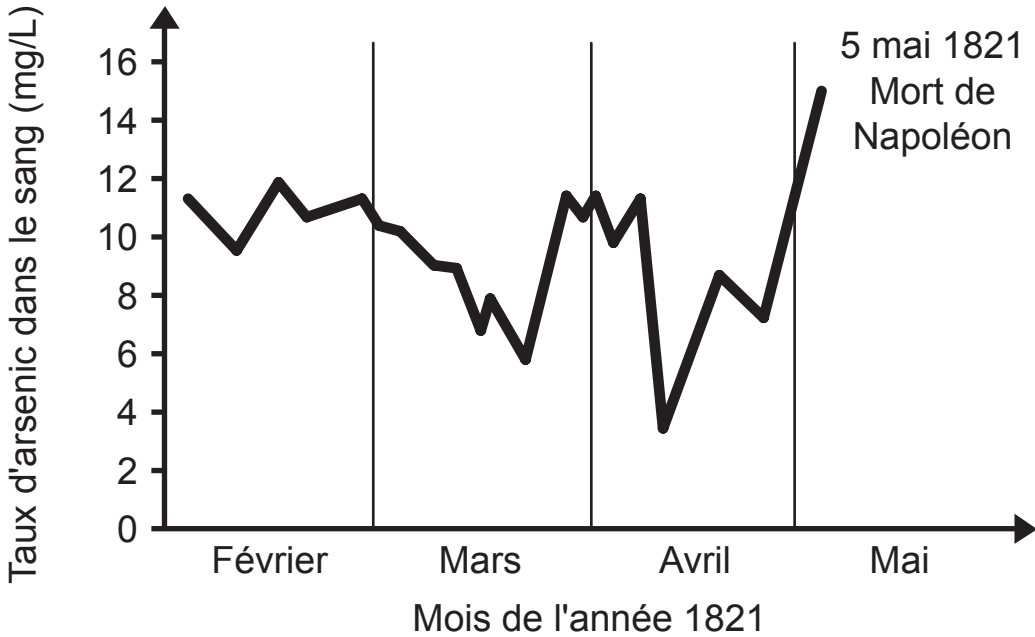


4

Actuellement, nous ne savons toujours pas avec certitude quelle est la cause de la mort de Napoléon (1769 - 1821).

L'analyse d'échantillons de ses cheveux a montré que, au moment de sa mort, ceux-ci présentaient un taux élevé d'arsenic correspondant à 15 mg par litre de sang (15 mg/L).

ANALYSE D'UN CHEVEU DE NAPOLÉON



5

BULLETIN DE SANTÉ DE NAPOLÉON DURANT LES DERNIERS MOIS DE SA VIE

	Commentaires sur la santé de Napoléon
Fin février	Dégradation : toux et brulures d'estomac
Début mars	Nette amélioration
Fin mars	Nouvelle aggravation
Début avril	Stabilisation
Mi-avril	Nette amélioration
Mai	Aggravation importante et mort

QUESTION 2

/8

Trier les êtres vivants ovipares ci-dessous selon leur mode de reproduction en complétant la clé dichotomique présentée à la page suivante en tenant compte de l'étiquette déjà placée (ovipares à fécondation externe sans métamorphose).



1 LE CRAPAUD

La fécondation est externe. Les œufs donnent naissance à de petits têtards qui passent par différents stades de métamorphoses pour devenir de jeunes crapauds.



2 LE PINGOUIN

La fécondation est interne. Lors de l'accouplement, les spermatozoïdes passent directement du cloaque du mâle dans celui de la femelle. Les parents couvent les œufs à tour de rôle.



3 L'ESTURGEON

La fécondation est externe. Seuls quelques œufs survivent et deviennent des esturgeons. Il n'y a pas de métamorphose lors de leur développement.



4 LE VARAN DE KOMODO

La fécondation est interne. La femelle pond ses œufs dans un terrier et les couve jusqu'à éclosion.



5 L'AUTRUCHE

La fécondation est interne. La femelle pond ses œufs dans un trou creusé par le mâle et les couve.



6 LE GARDON

La fécondation est externe. Les œufs éclosent après 4 à 10 jours. Il n'y a pas de métamorphose lors de leur développement.



7 LA GRENOUILLE

La fécondation est externe. Sortis de l'œuf, les têtards subissent plusieurs métamorphoses durant 90 jours pour devenir des adultes.



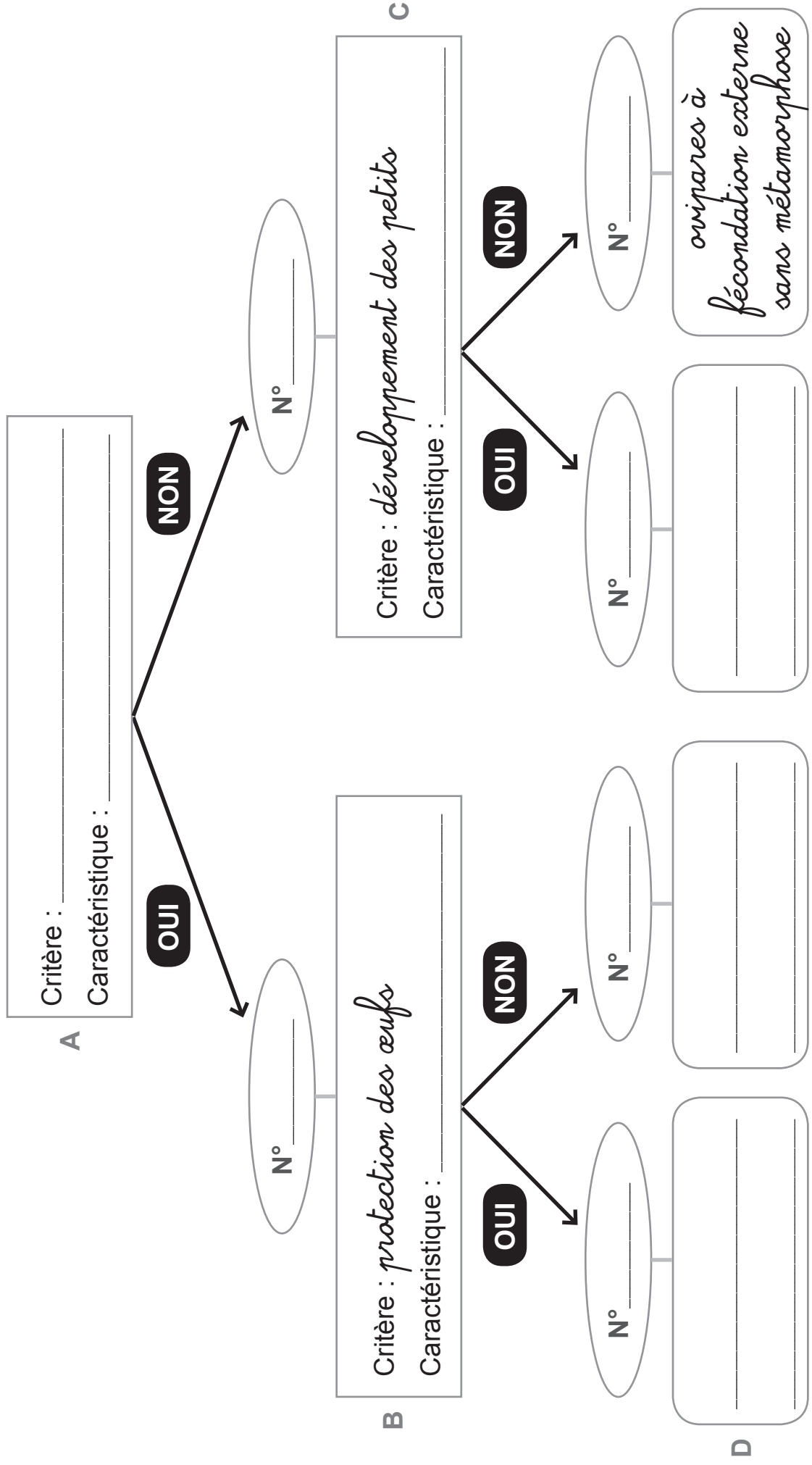
8 LA TORTUE

La fécondation est interne. Sur la plage, la tortue creuse un trou et y dépose ses œufs qu'elle recouvre ensuite de sable. Elle retourne alors vers la mer laissant ses œufs sans les couvrir.

ÉPREUVE ANNULÉE

- 1 CRAPAUD - 2 PINGOUIN - 3 ESTURGEON - 4 VARAN DE KOMODO 5 AUTRUCHE - 6 GARDON
7 GRENOUILLE - 8 TORTUE

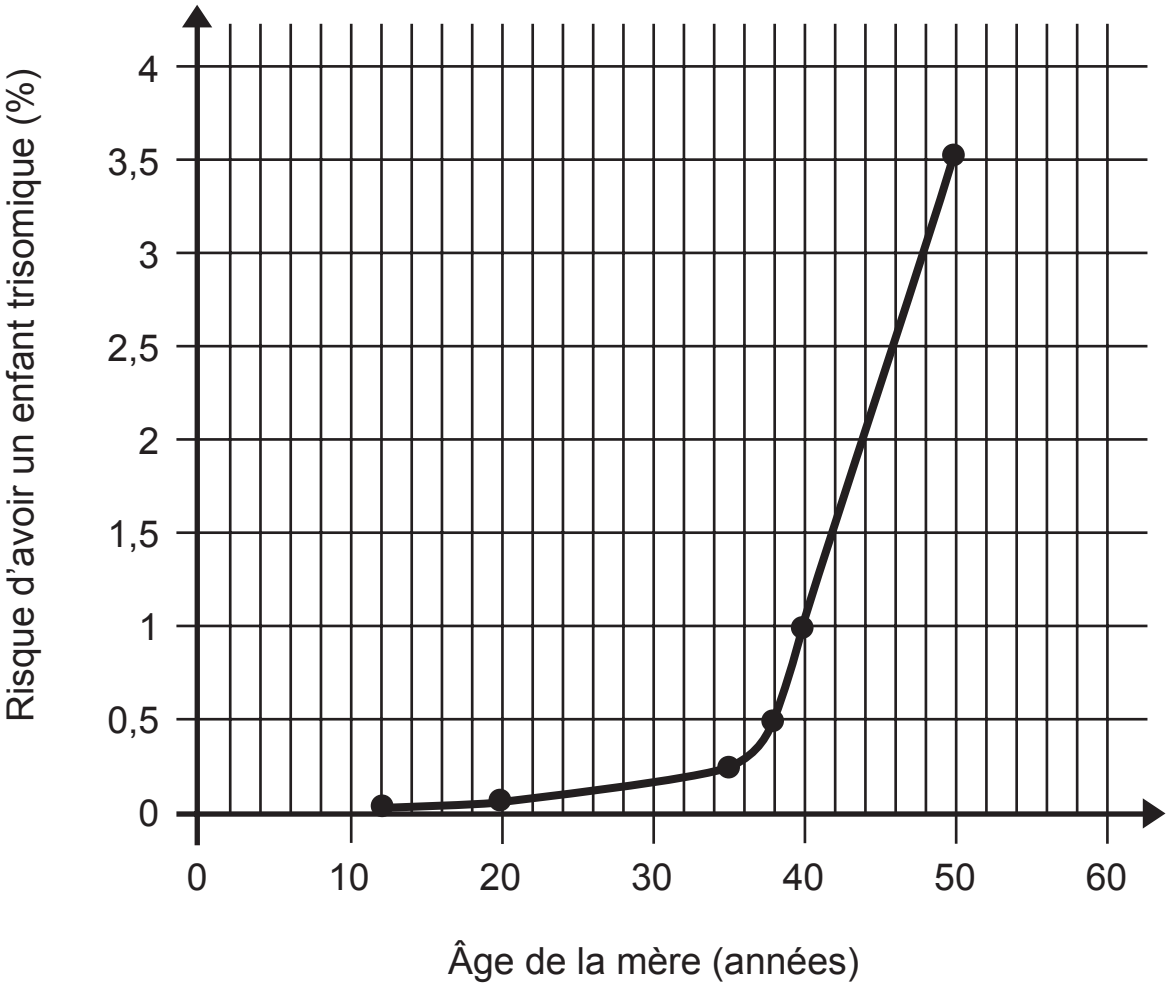
ÉPREUVE ANNULÉE



GLOSSAIRE

Critère : point commun observable chez tous les éléments à trier.
Caractéristique scientifique : élément qui sert à faire le tri.

La trisomie 21 est une anomalie génétique qui entraîne des handicaps physiques et mentaux.



Donner un titre au graphique.

Établir la relation entre les deux variables du graphique.

Déterminer à quel âge le risque d'avoir un enfant atteint de trisomie 21 est de 2 %.

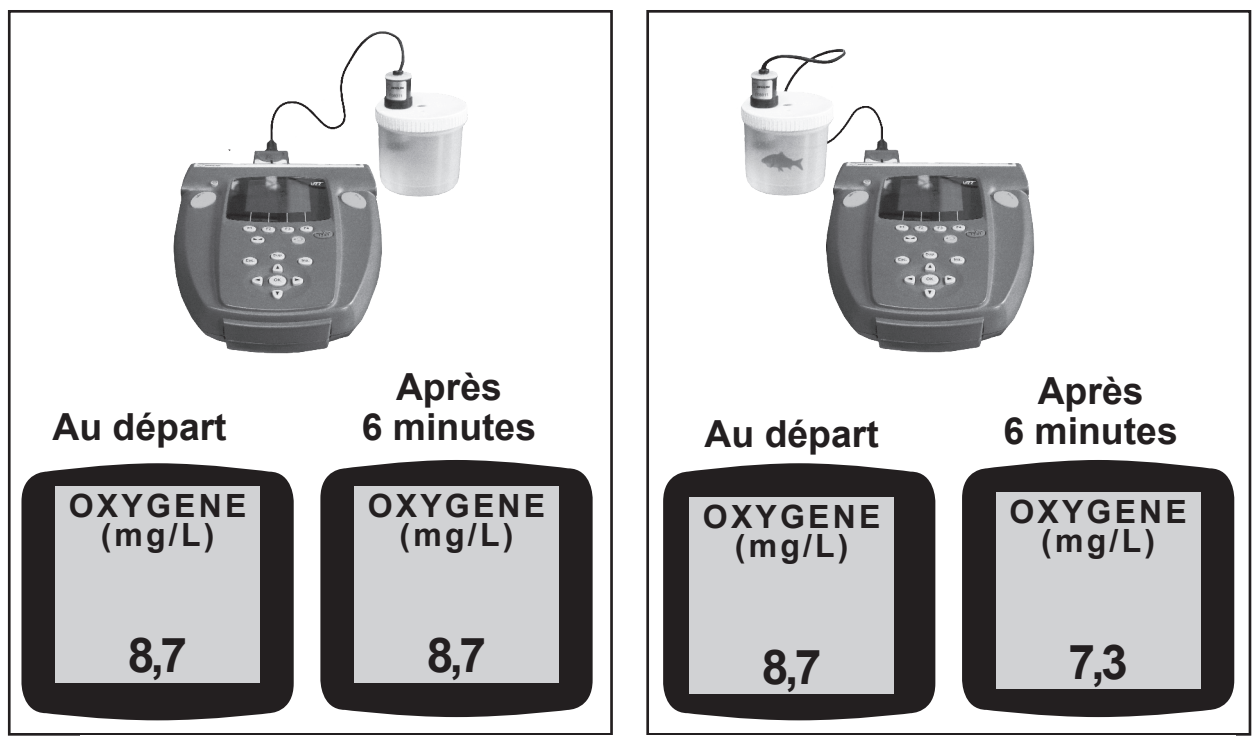
Émettre des hypothèses sur l'absence de données :

- une hypothèse pour les filles de moins de 11 ans ;
-
-

- une hypothèse pour les femmes de plus de 50 ans.
-
-

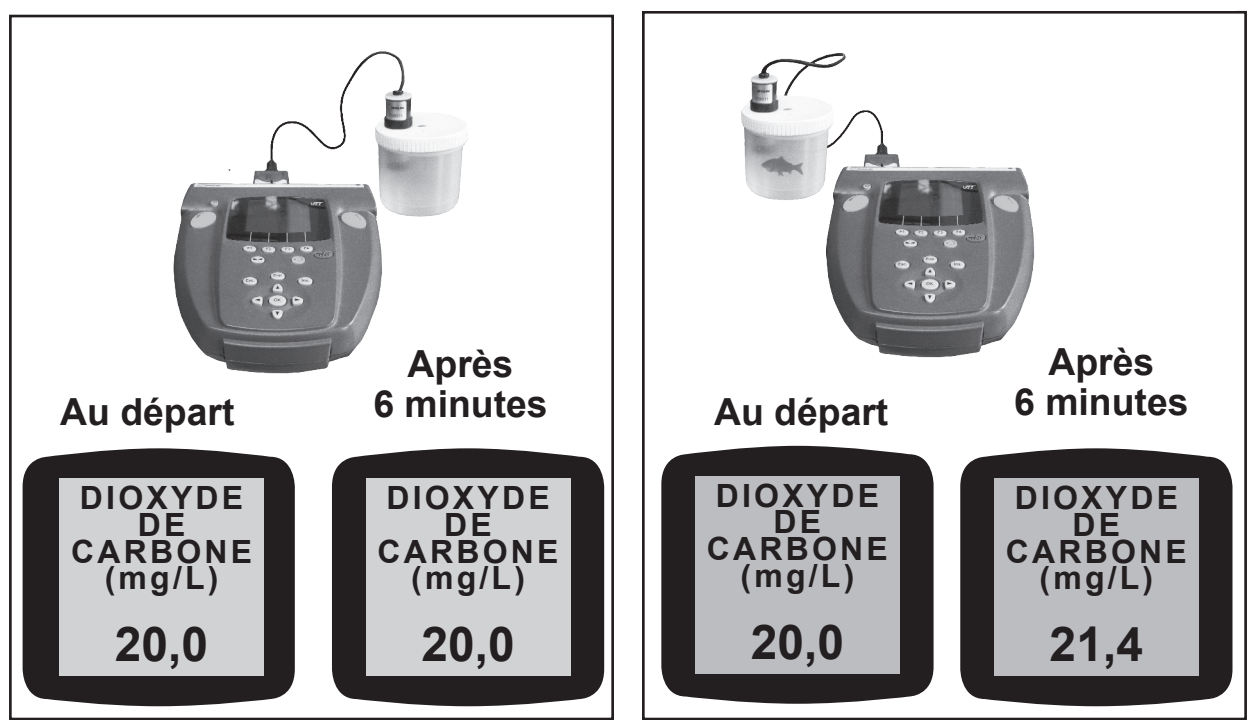
On verse la même quantité d'eau dans deux récipients identiques. Dans l'un des deux, on introduit un poisson rouge puis on mesure la quantité d'**oxygène** dissous dans l'eau de chacun des récipients. Après 6 minutes, on effectue à nouveau les mesures. Durant l'expérience, la température reste constante. Voici les résultats obtenus.

1



2

On reproduit l'expérience avec le même poisson, mais cette fois en mesurant la quantité de **dioxyde de carbone** dissous dans l'eau. Voici les résultats obtenus.



Établir un tableau récapitulatif des résultats obtenus lors de ces expériences.

Citer la fonction caractéristique des êtres vivants étudiée durant ces expériences.

Souligner deux variables parmi les propositions suivantes qui peuvent expliquer les différences constatées lors de ces expériences.

- la quantité d'eau
- l'agitation de l'eau
- la taille du poisson
- la température de l'eau
- la durée de l'expérience
- la taille des récipients
- la présence d'un poisson

Sur la base des documents fournis aux deux pages suivantes :

Expliquer pourquoi la girafe n'est plus présente dans la savane après l'abattage des acacias.

Expliquer pourquoi le zèbre apparaît dans la savane après l'abattage des acacias.

- Étape 1 : *disparition des acacias*
- Étape 2 : _____
- Étape 3 : _____
- Étape 4 : _____

Expliquer pourquoi l'éléphant est toujours présent dans la savane après l'abattage des acacias.

DE LA SAVANE À ACACIAS À LA SAVANE HERBEUSE

L'ACACIA

L'acacia est un arbre épineux d'Afrique qui peut atteindre une taille de 6 mètres.



LA GIRAFE

Le régime alimentaire de la girafe est essentiellement constitué d'acacias (feuilles, épines et bourgeons).



L'HOMME

Vu l'augmentation de la population, les Hommes abattent de plus en plus d'arbres dont les acacias pour différents usages (charbon de bois, bois de construction, commerce...).


Ces coupes provoquent un bouleversement de l'équilibre du milieu : la disparition des acacias contribue au développement d'herbes qui ont besoin de beaucoup de lumière. La savane à acacias devient savane herbeuse.

L'ÉLÉPHANT

L'éléphant mange une grande variété d'éléments végétaux (herbes, plantes, feuilles, fruits, racines, tubercules, écorces).

LE ZÈBRE


Le zèbre se nourrit essentiellement de végétaux de petite taille (herbes fraîches...).



ÉVOLUTION D'UN MILIEU NATUREL AFRICAIN (de savane à acacias à savane herbeuse)

Avant l'action de l'Homme

Acacia




Girafe

Éléphant

Euphorbe
plante toxique

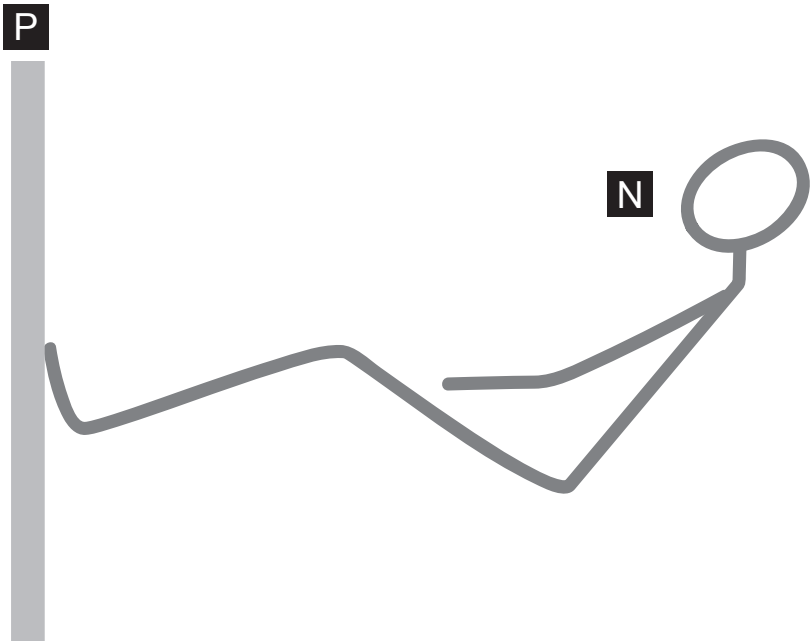
Après l'action de l'Homme



Herbe

Zèbre

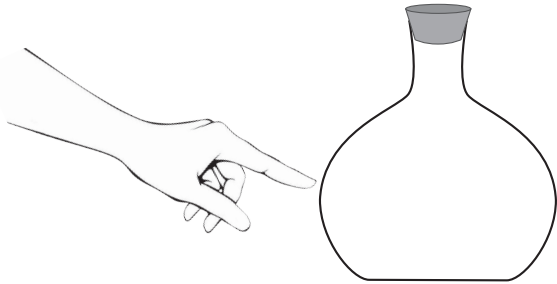
Représenter, sur le schéma (en dessous de la photo), les forces qui agissent entre la nageuse **N** au moment où elle s'élanche et la paroi du mur **P** de la piscine.



Donner le nom du principe mis en évidence dans cette situation.

Voici un flacon dans lequel on verse du parfum jusqu'à hauteur du doigt. On bouche ensuite le flacon.


Représenter, à l'aide d'un modèle moléculaire, le contenu de ce flacon (ne pas modéliser les molécules des constituants de l'air).



Légende du modèle moléculaire :

On débouche le flacon.

Représenter, toujours à l'aide du même modèle moléculaire, le phénomène qui explique la remarque que fait le personnage quelques secondes plus tard.



Hum !
Ça sent drôlement bon !

Le fonctionnement de l'Homme peut être comparé à celui d'une voiture.

Compléter les cases vides du tableau.

	Homme	Voiture
Une source d'énergie	_____	Carburant
Le gaz puisé dans l'environnement pour assurer la production d'énergie	_____	Oxygène
Une forme d'énergie produite	Énergie mécanique	_____
Un déchet produit	Eau	_____
Le nom du phénomène responsable de la production d'énergie	_____	Combustion

Sur la base des documents fournis ci-dessous et à la page suivante :

Compléter la chaîne énergétique, présentée dans le cadre, depuis l'eau injectée dans la Terre jusqu'à l'électricité utilisée dans la maison.

Énergie _____ → Énergie _____ → Énergie _____

Émettre une hypothèse sur l'origine de l'énergie permettant à l'eau froide injectée de se transformer en vapeur d'eau.

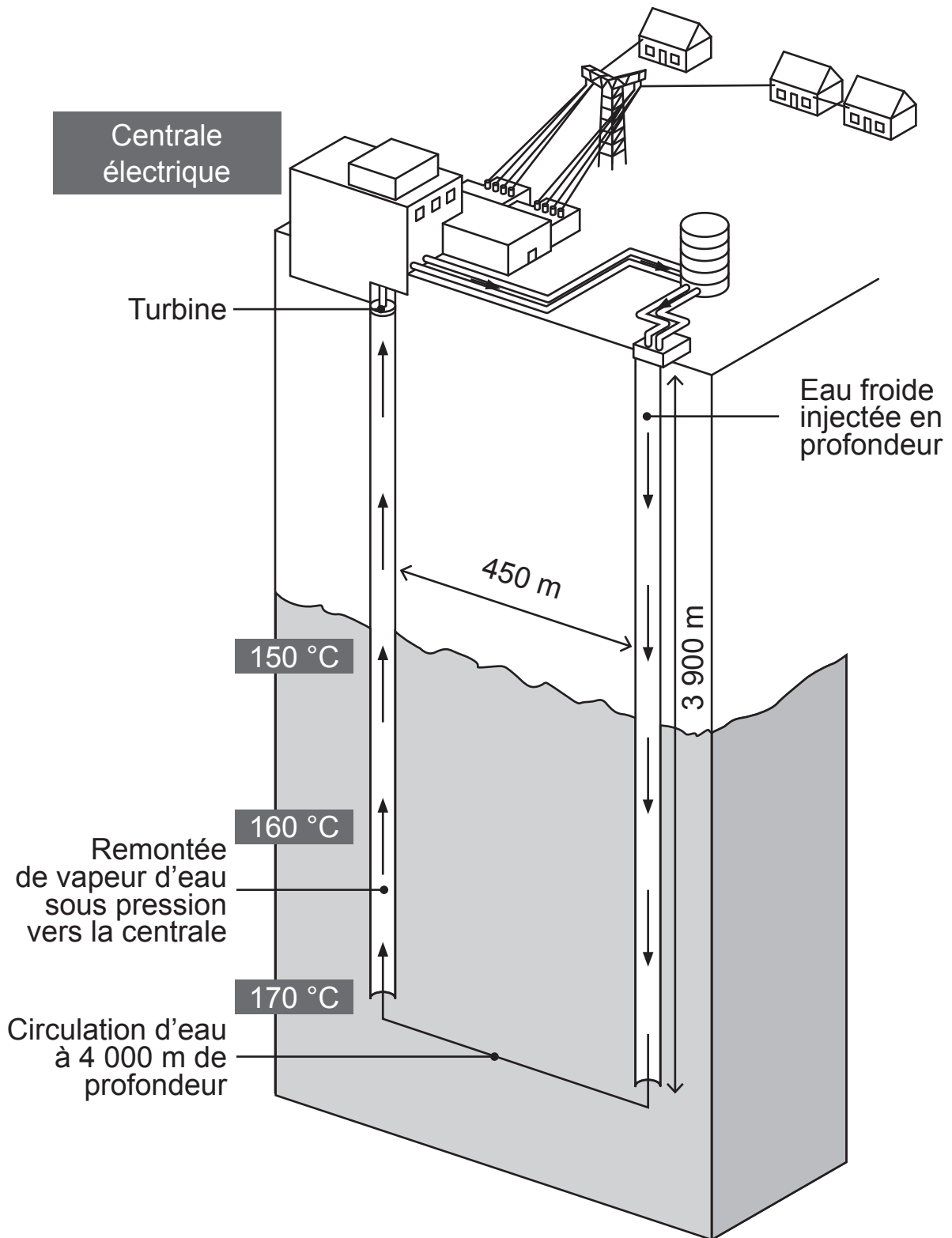
Citer un avantage de ce type de centrale électrique.

L'ÉNERGIE GÉOTHERMIQUE

1

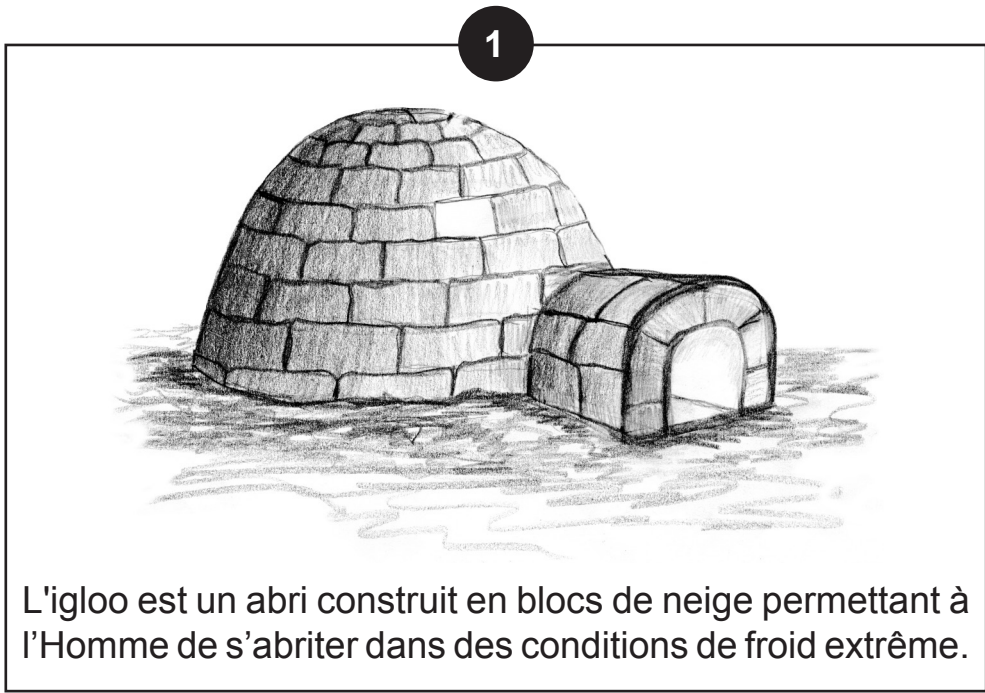
La croûte terrestre (dure, solide) est l'enveloppe extérieure du globe sur laquelle nous nous déplaçons. Elle a une épaisseur allant de 0 à 50 km et flotte sur une partie liquide formée de roches en fusion : le magma. Ainsi, plus on descend en profondeur, plus la température augmente. Ce fait peut être mis à profit pour récupérer de l'énergie.

Une turbine est la version moderne des anciennes roues à aubes ou des moulins à vent. Elle est mise en mouvement grâce à de la vapeur d'eau qui circule. En tournant, elle actionne un alternateur qui produit du courant électrique.



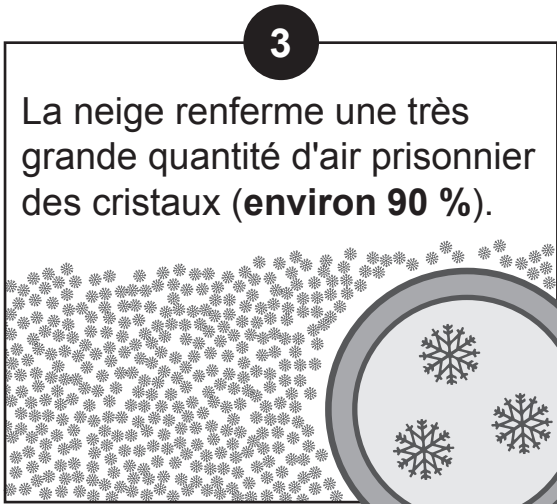
Sur la base des documents fournis ci-dessous :

Expliquer pourquoi, dans un igloo occupé par l'Homme, la température reste supérieure à celle de l'air extérieur.



2

Quand un Homme est à l'intérieur de l'igloo, la température peut monter jusqu'à 6 °C, même s'il fait -30 °C à l'extérieur.



On mélange deux verres contenant la même quantité d'eau.

Dans l'un, l'eau est à 23 °C, dans l'autre, elle est à 47 °C.

On repère la température du mélange obtenu.

Noter la température obtenue. _____

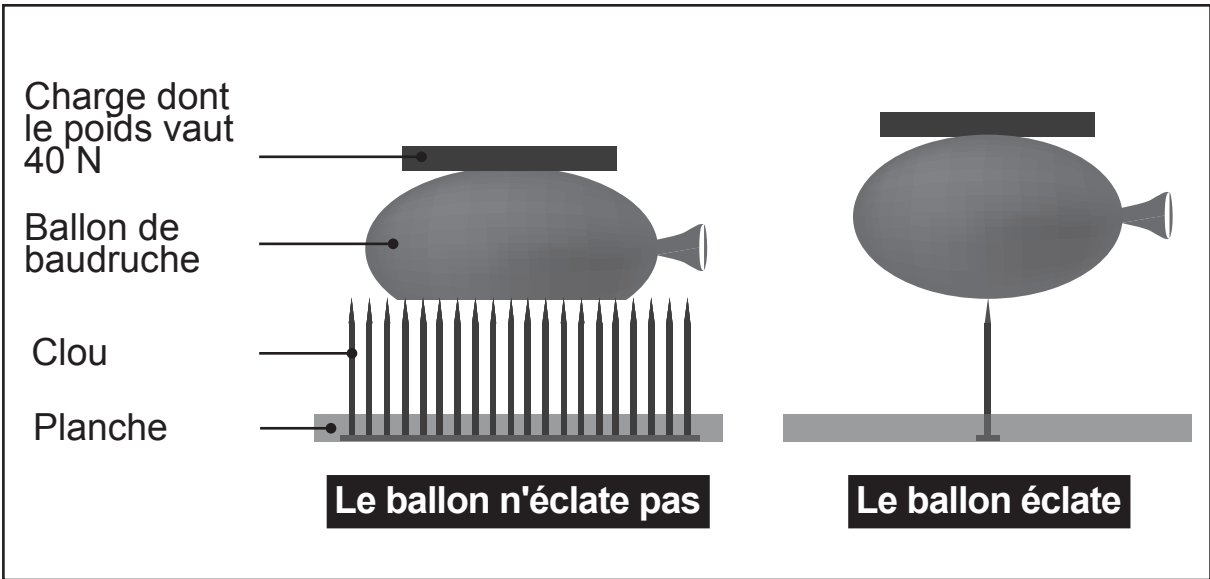
Souligner la proposition correcte.

- Les températures des deux verres d'eau s'additionnent.
- L'eau plus chaude cède de la chaleur à l'eau moins chaude.
- L'eau plus chaude cède de la température à l'eau moins chaude.

La planche du fakir

Dans le numéro de music-hall appelé « La planche du fakir », un homme se couche torse nu sur une planche munie d'une multitude de clous. Il n'est pas transpercé et ne subit aucun saignement.

Afin d'expliquer cette absence de blessure, on réalise l'expérience suivante.



Indiquer par une croix la proposition correcte pour chaque ligne du tableau.

Entre les 2 expériences	Ne varie pas	Varie
le ballon utilisé		
le nombre de clous en contact avec le ballon		
la charge		
la hauteur des clous		



**Fédération Wallonie-Bruxelles / Ministère
Administration générale de l'Enseignement**

Boulevard du Jardin Botanique, 20-22 – 1000 Bruxelles

Fédération Wallonie-Bruxelles / Ministère

www.fw-b.be – 0800 20 000

Impression : FWB / DSL / Service Imprimerie

Graphisme : MO - olivier.vandevelle@cfwb.be

Juin 2015

Le Médiateur de la Wallonie et de la Fédération Wallonie-Bruxelles

Rue Lucien Namèche, 54 – 5000 NAMUR

0800 19 199

courrier@mediateurcf.be

Éditeur responsable : Jean-Pierre HUBIN, Administrateur général

La « Fédération Wallonie-Bruxelles » est l'appellation désignant usuellement la « Communauté française » visée à l'article 2 de la Constitution

ÉPREUVE EXTERNE COMMUNE

CE1D 2015

SCIENCES

LIVRET 2 | MERCREDI 17 JUIN



V2

Arial 14



... /21

Apparier chaque grandeur physique à l'élément de l'expérience qui lui correspond.

Grandeur physique		
pression	force	surface
1	2	3

Élément de l'expérience	
	Planche
	Hauteur des clous
	Nombre de clous en contact avec le ballon
	Charge
	Éclatement du ballon

Expliquer, en utilisant les trois grandeurs physiques citées, pourquoi un fakir se blesserait s'il était couché sur une planche avec peu de clous.

Le fakir se blesserait car

Réaliser le rapport de l'expérience présentée en complétant les rubriques suivantes.

MATÉRIEL

MODE OPÉRATOIRE

OBSERVATION

Expliquer, de façon scientifique, le phénomène observé.

Voici le rapport d'une expérience réalisée à température ambiante (20 °C).

MATÉRIEL

- 2 compte-gouttes
- Éther

L'**éther** est un liquide incolore et très inflammable.



Sa température d'ébullition est basse (34,6 °C).

L'éther a été longtemps utilisé en chirurgie pour endormir les patients.

MODE OPÉRATOIRE

Verser une goutte d'éther simultanément sur la main et sur le banc.

OBSERVATION

- 1  Sur la main, l'éther « disparaît » instantanément.
Sur le banc, il « disparaît » après une dizaine de secondes.
- 2  Une odeur d'éther se répand dans la classe.

Justifier l'observation ①, à l'aide de la bulle d'information.

Proposer deux moyens pour accélérer la « disparition » de l'éther sur le banc.

- _____
- _____

Nommer le phénomène observé en ①.

Écrire la propriété des gaz liée à l'observation ②.



**Fédération Wallonie-Bruxelles / Ministère
Administration générale de l'Enseignement**

Boulevard du Jardin Botanique, 20-22 – 1000 Bruxelles

Fédération Wallonie-Bruxelles / Ministère

www.fw-b.be – 0800 20 000

Impression : FWB / DSL / Service Imprimerie

Graphisme : MO - olivier.vandevelle@cfwb.be

Juin 2015

Le Médiateur de la Wallonie et de la Fédération Wallonie-Bruxelles

Rue Lucien Namèche, 54 – 5000 NAMUR

0800 19 199

courrier@mediateurcf.be

Éditeur responsable : Jean-Pierre HUBIN, Administrateur général

La « Fédération Wallonie-Bruxelles » est l'appellation désignant usuellement la « Communauté française » visée à l'article 2 de la Constitution